

**D**

ಒಟ್ಟು ಮುದ್ರಿತ ಪುಟಗಳ ಸಂಖ್ಯೆ : 8 ]

Total No. of Printed Pages : 8 ]

ಒಟ್ಟು ಪ್ರಶ್ನೆಗಳ ಸಂಖ್ಯೆ : 57 ]

Total No. of Questions : 57 ]

ಸಂಕೇತ ಸಂಖ್ಯೆ : **85-T**

Code No. : **85-T**

**CCE PR  
UNREVISED**

Question Paper Serial No. **50**

ಇங்கிருந்து பிரிக்கவும்

ವಿಷಯ : ಸಮಾಜ ವಿಜ್ಞಾನ

**Subject : SOCIAL SCIENCE**

( தமிழ் ಭಾಷಾಂತರ / Tamil Version )

( ಹಳೆ ಪಠ್ಯಕ್ರಮ / Old Syllabus )

( ಪ್ರೌಢಶಾಲைத் தரவரிசை / Private Repeater )

ದಿನಾಂಕ : 09. 04. 2020 ]

[ Date : 09. 04. 2020

ಸಮಯ : ಬೆಳಿಗ್ಗೆ 9-30 ರಿಂದ ಮಧ್ಯಾಹ್ನ-12-45 ರವರೆಗೆ ] [ Time : 9-30 A.M. to 12-45 P.M.

ಗರಿಷ್ಠ ಅಂಕಗಳು : 100 ]

[ Max. Marks : 100


பொதுவான குறிப்புகள் :

1. இந்த வினாத்தாள் புறவய மற்றும் அகவய வகை (Objective and Subjective) வினாக்கள் 57-ஐ கொண்டுள்ளது.
2. இந்த வினாத்தாள் பின்புறமாக மூடி வைக்கப்பட்டுள்ளது (Sealed by reverse jacket). நீங்கள் தேர்வு ஆரம்பிக்கும்பொழுது வலக்கைப் பக்க ஓரத்தை பிரித்து திறக்க வேண்டும். வினாக்களை உள்ளடக்கிய அனைத்துப் பக்கங்களும் சரியாகவும், பிரிக்கப்படாமலும் உள்ளதா என சரிபார்க்கவும்.
3. புறவய மற்றும் அகவய வகை வினாக்களில் கொடுக்கப்பட்டுள்ள அறிவுரைகளைப் பின்பற்றவும்.
4. வலக்கைப் பக்கத்தில் கொடுக்கப்பட்டுள்ள எண்கள் அதிகபட்ச மதிப்பெண்ணைக் குறிக்கிறது.
5. மாணாக்கர்கள் விடைகளை எழுதுவதற்கான அதிகபட்ச நேரம் வினாத்தாளின் மேற்புறத்தில் கொடுக்கப்பட்டுள்ளது. மாணாக்கர்கள் வினாத்தாளைப் படிப்பதற்கென கூடுதலாக ஒதுக்கப்பட்ட 15 நிமிடங்களையும் அது உள்ளடக்கியது.

TEAR HERE TO OPEN THE QUESTION PAPER


இங்கு ஓட்டியுள்ள பகுதியைப் பிரித்துத் திறக்கவும்



I. பின்வரும் வினாக்கள் / மற்றும் முழுமைபெறாத கூற்றுகளுக்கு நான்கு மாற்று விடைகள் தரப்பட்டுள்ளன. இவற்றுள் ஒன்றே ஒன்று சரியானது அல்லது பொருத்தமானது. சரியான விடையைத் தேர்ந்தெடுத்து அவ்விடையினை அதற்கென தரப்பட்டுள்ள இடத்தில் விடைக் குறியீட்டு எழுத்துடன் முழுவதுமாக எழுத வேண்டும்.   $10 \times 1 = 10$



1. இந்தியாவின் இரும்பு மனிதர் 


(A) மகாத்மா காந்தியடிகள் 


(B) Dr. B.R. அம்பேத்கார்

(C) சர்தார் வல்லபாய் பட்டேல்


(D) ஜவஹர்லால் நேரு

2. விடுதலைக்குப் பிறகும் போர்த்துக்கீசியர்களின் ஆட்சி கட்டுப்பாட்டி ருந்து இந்தியப்பகுதி


(A) பாண்டிச்சேரி 

(B) கோவா 

(C) காரைக்கால்

(D) மாகே 

3. வரலாற்று ரீதியாக இந்தியா மற்றும் இலங்கை ஆகிய நாடுகளுக்கிடையே உறவு உள்ளது. அதற்கு சரியான ஆதாரம்

(A) இந்தியா இலங்கையுடன் நல்ல வாணிக உறவை கொண்டுள்ளது 

(B) ஈழ விடுதலைப் பு கள் இயக்கத்தை (LTTE) ஒடுக்க இலங்கைக்கு இராணுவ உதவி வழங்கியது

(C) இந்திய புத்த துறவிகளால் இலங்கையில் புத்த மதம் பரப்பப்பட்டது 

(D) இந்தியா இலங்கையுடன் அரசியல் மற்றும் பொருளாதார உறவை மேற் கொண்டுள்ளது

4. ஐ.நா. சபையின் பொதுச்செயலாளரின் பதவிக் காலம்

(A) 3 ஆண்டுகள் 

(B) 4 ஆண்டுகள் 

(C) 5 ஆண்டுகள்


(D) 6 ஆண்டுகள்









5. சமூக ஒற்றுமையை உருவாக்கும் காரணி ?

(A) வகுப்புவாதம் 

(B) நிறவெறிக்கொள்கை

(C) ஜாதிமுறை

(D) கல்வி 

6. பருவகாற்று பின்னடையும் காலம், “மழையைப் பெறும் காலம்” என்றும் அழைக்கப்படக் காரணம். 
- (A) அக்டோபர் மாதத்தில் உயர் அழுத்தத்தின் காரணமாக தென்மேற்கு பருவகாற்று திரும்பி வருகிறது. 
- (B) நவம்பர் இறுதியால் வீசும் காற்றுகள் நின்று விடுகிறது. 
- (C) அக்டோபர் மாதத்தில் இந்திய துணைக்கண்டம் மழைப் பெற்று வெப்பநிலை தாழ்கிறது. 
- (D) தென் துருவத்தில் சூரிய ஒளிக்கதிர்கள் செங்குத்தாக விழுகிறது
7. இந்தியாவின் மிக உயரமான அணை
- (A) பாக்ரா நங்கல்
- (B) கோசி 
- (C) தாமோதர்
- (D) ஹிராக்குட்
8. நிதி சம்பந்தமான குறைபாடுக்கு காரணம்.
- (A) வருமானம் எடுக்கப்பட்ட முதலீட்டின் மூலம் பெறப்படுகிறது
- (B) அரசுக்கு கடனை திருப்பி செலுத்தப்படுகிறது
- (C) அரசாங்கத்தின் அதிகப்படியான செலவு 
- (D) அரசாங்கத்தின் அதிக வருவாய்.
9. நடப்பு வங்கி கணக்கு, வாணிகர்களுக்கு மிகவும் பயனுள்ளதாக இருக்க காரணம்
- (A) முதலீட்டுக்கு வங்கி எந்த வட்டியையும் தருவதில்லை 
- (B) இது பணம் போடுவதையும் பணம் எடுக்கும் செயல்களையும் எண்ணிக்கையில் குறைக்கிறது. 
- (C) சேவை வரிக்காக அந்த தொகைக்கான வட்டியை வங்கிகள் எடுத்துக் கொள்கிறது
- (D) எத்தனை முறை வேண்டுமானாலும் பணம் போடவும் பணம் எடுக்கவும் முடியும்.



10. மாவட்ட தொழிற்சாலை மையங்களின் நோக்கங்கள் யாதெனில்
- (A) சுய வேலை வாய்ப்பை உற்சாகப்படுத்துவது
- (B) நகரங்களில் தொழிற்சாலைகளை அமைப்பது
- (C) கிராமப்புறங்களில் சிறுதொழில் நிறுவனங்களின் முன்னேற்றத்திற்கும் ஒருமைப்பாட்டு நிர்வாக செயல்பாட்டுக்கும் வாய்ப்பு அளிப்பது.
- (D) நகரங்களின் தொழிற்சாலைகளை மேம்படுத்துவது.

II. பின்வரும் வினாக்களுக்கு ஒரு வாக்கி யத்தில் விடையளிக்கவும் :  $14 \times 1 = 14$

11. யுகம் என்றால் என்ன ?
12. லோக் அயுக்தாவின் முக்கிய நோக்கம் என்ன ?
13. 1909ம் ஆண்டு மிண்டோ-மார் சீர்திருத்தம் எவ்வாறு இந்திர்களை பிளவுப்படுத்தியது ?
14. ஐ.நா.வின் அறக்கட்டளைச்சபையின் அளவு தற்போது ஏன் குறைந்து உள்ளது ?
15. வெண்மை புரட்சியின் தந்தை யார் ?
16. அமைதி பள்ளத்தாக்கு இயக்கம் ஏன் ஏற்பட்டது ?
17. ஹிட்லரின் நாசிசக் கொள்கை எவ்வாறு ஜெர்மனியை அழித்து ஒழித்தது ?
18. 'கூ யி ருந்து பள்ளிக்கு' என்ற திட்டத்தின் நோக்கம் என்ன ?
19. இந்தியாவின் இரு பானப்பயிர்களை கூறுக.
20. தொடர் விவசாயம் என்றால் என்ன ?
21. நிலக்கரி ஏன் கருப்பு வையிரம் என அழைக்கப்படுகிறது ?
22. தகவல் தொடர்பு நுணுக்கம் ஏன் அறிவு சார்ந்த தொழிற் நுணுக்கம் என அழைக்கப்படுகிறது ?
23. 'பெண்களுக்கு அதிகாரம்' அளித்தல் என்றால் என்ன ?
24. 'பசுமைப் புரட்சியின் முன்னோடி' என DR. சுவாமி நாதன் ஏன் அழைக்கப்படுகிறார் ?

III. பின்வரும் வினாக்களுக்கு இரண்டு அல்லது நான்கு வாக்கியங்கள் வரை விடையளி :

25. மூன்றாம் ஆங்கில மைசூர்ப் போரின் விளைவுகள் யாவை ?
26. அறிவியல் கண்டுபிடிப்புகள் எவ்வாறு கடல் பயணத்திற்கு வழிவகுத்தது ?

27. அ கார் இயக்கத்தின் நோக்கங்கள் யாவை ?

அல்லது



இராமக்கிருஷ்ணா மிஷனின் நோக்கங்கள் யாவை ?

28. ரஷியாவில் லெனின் கொண்டு வந்த சீர்திருத்தங்கள் யாவை ?

29. மாநில உணர்வு (Regionalism) என்றால் என்ன ?

30. மண்ணரிப்புக்கான காரணங்கள் யாவை ?



31. உலக நாடுகளில் மனித உரிமைகளை நிலைநாட்டிட இந்தியா ஆற்றிவரும் அரும்பங்கினை விவரி ?

32. இந்திய தீபகற்ப பீடபூமியின் பொருளாதார முக்கியத்துவம் குறித்து விவரி.

33. மக்கள் கூட்டம் உதாரணத்துடன் விவரி.



34. காடுகளை பாதுகாக்க மேற்கொள்ளப்படும் நடவடிக்கைகள் யாவை ?

35. குளோபல் பொசிஸனிங் சிஸ்டம் (GPS) எவ்வாறு வழிகாட்டியாக உதவுகிறது ?

36. வெள்ளப்பெருக்கினால் ஏற்படும் விளைவுகள் யாவை ?



37. இந்திய பொருளாதார வளர்ச்சியில் மக்கள் தொகை பெருக்கும் எல்லாறு பாதிப்பை ஏற்படுத்துகிறது?



38. மனித வாழ்க்கை எதிர்பார்ப்புகளை உருவாக்கும் காரணிகளை பட்டிய டுக.

39. உலகமயமாக்கல் எவ்வாறு நுகர்வோர்களுக்கு அளப்பரிய நன்மைகளைத் தருகிறது என்பதை விவரி.



40. ஒழுங்கு முறைச்சட்டத்தின் முக்கிய கோட்பாடுகளை கூறுக.



41. இந்திய விடுதலைப்போராடத்திற்கு போக்குவரத்து மற்றும் தகவல் தொடர்பு எவ்வாறு வழி வகுத்தது ?

42. ஐக்கிய நாட்டு சபையின் நோக்கங்கள் யாவை ?



43. இன்றைய தினம் மழைநீர் சேகரிப்பு மிக கட்டாயமாகும் ஏன் ?

44. விடுதலைக்குப்பின் இந்தியா எதிர்நேக்கிய பிரச்சனைகள் யாவை ?



45. குழந்தை தொழிலாளர் முறையால் ஏற்படும் தீமைகள் யாவை ?

46. உலகின் எந்த மூலையிலும் நிறுவெறிக்கொள்கை நடைமுறைப்படுத்தக் கூடாது என்று இந்தியா வ யுறுத்துகிறது. இது பற்றி விவரிக்கவும்.



47. பருத்தி விளைவிக்கத் தேவையான சூழல்கள் யாவை ?

48. அறுவடைக்கு முந்தைய தொழிற்நுட்பம் எவ்வாறு அறுவடைக்கு பிந்தைய தொழிற் நுட்பத்தி ருந்து வேறுபடுகிறது.



49. உலகவாணிப கழகத்தின் (WTO) குறிக்கோள்கள் யாவை ?



IV. பின்வரும் வினாக்களுக்கு ஆறு வாக்கியங்களில் விடையளிக்கவும் :  $6 \times 3 = 18$

50. ஆங்கிலேயரின் கல்வித்துறையில் கொண்டுவந்த சீர்திருத்தங்கள் எவ்வாறு முன்னேற்றத்தை ஏற்படுத்துவனவாக உள்ளன ?



அல்லது

கி. பி. 1857 ல் ஏற்பட்ட பெரும்புரட்சியின் விளைவுகள் யாவை ?



51. இந்தியாவின் அயல்நாட்டுக்கொள்கையின் நோக்கங்கள் யாவை ?

அல்லது

ரஷ்யா நாட்டுடன் இந்தியா கொண்டுள்ள உறவை விவரி.

52. சாலை போக்குவரத்தின் பிரச்சனைகள் யாவை ?



அல்லது

ஓரிடத்தில் தொழிற்சாலை அமைக்கத் தேவையான காரணிகள் யாவை ?

53. தீண்டாமையை அடியோடு ஒழிக்க எடுக்கப்பட்ட சட்ட திட்டங்கள் யாவை ?



அல்லது

முறைப்படுத்திய மற்றும் முறைப்படுத்தப்படாத பணியாளர்களுக்கிடையே உள்ள வேறுபாடுகள் யாவை ?

54. கிராமப்புற வளர்ச்சியின் சிறப்புக்களை விவரி ?



அல்லது

பொதுநிதி மற்றும் தனிநபர்நிதி ஆகியவற்றிற்கிடையே காணப்படும் வேறுபாடுகள் யாவை ?

55. வங்கி கணக்கு தொடங்குவதால் ஏற்படும் நன்மைகள் யாவை ?



அல்லது



காப்பீட்டு நிறுவனங்களால் (Insurance Companies) ஏற்படும் நன்மைகளை கூறுக.

V. பின்வரும் வினாக்களுக்கு பத்து வாக்கியங்களில் விடையளிக்கவும். 4

56. இந்திய விடுதலைப் போராட்டத்தில் சுபாஷ் சந்திர போஸ் ஆற்றிய அரும்பங்கை குறித்து விவரி.

VI. 57. இந்தியத் தரைப்படம் வரைந்து, பின்வரும் இடங்களைக் குறிக்கவும் :



1 + 3 = 4

a)  $23\frac{1}{2}^{\circ}$  வடக்கு அட்ச ரேகை



b) ஹிராக்குட் அணைத்திட்டம்

c) பாம்பே ஹை

பார்வைத்திறன் அற்றோர்க்கான வினா : (வினா எண் 57க்கான மாற்று வினா)



இமயமலையின் பயன்கள் யாவை ?

4

