

ಒಟ್ಟು ಮುದ್ರಿತ ಪುಟಗಳ ಸಂಖ್ಯೆ : 8]

Total No. of Printed Pages : 8]

ಒಟ್ಟು ಪ್ರಶ್ನೆಗಳ ಸಂಖ್ಯೆ : 48]

Total No. of Questions : 48]

ಸಂಕೇತ ಸಂಖ್ಯೆ : **85-H**

Code No. : **85-H**

C

**CCE PF
CCE PR
REVISED**

Question Paper Serial No. **80**

यहाँ से काटिए

ವಿಷಯ : ಸಮಾಜ ವಿಜ್ಞಾನ

Subject : SOCIAL SCIENCE

(ಹಿಂದಿ ಭಾಷಾಂತರ / Hindi Version)

(ಹೊಸ ಪಠ್ಯಕ್ರಮ / New Syllabus)

(ಖಾಸಗಿ ಅಭ್ಯರ್ಥಿ & ಪುನರಾವರ್ತಿತ ಖಾಸಗಿ ಅಭ್ಯರ್ಥಿ / Private Fresh & Private Repeater)

ದಿನಾಂಕ : 09. 04. 2020]

[Date : 09. 04. 2020

ಸಮಯ : ಬೆಳಿಗ್ಗೆ 9-30 ರಿಂದ ಮಧ್ಯಾಹ್ನ 12-45 ರವರೆಗೆ]

[Time : 9-30 A.M. to 12-45 P.M.

ಗರಿಷ್ಠ ಅಂಕಗಳು : 100]

[Max. Marks : 100

परीक्षार्थियों के लिए सामान्य सूचनाएँ :








1. इस प्रश्नपत्र में वस्तुनिष्ठ एवं गैर-वस्तुनिष्ठ प्रकार के कुल 48 प्रश्न हैं ।
2. यह प्रश्नपत्र रिवर्स जैकेट द्वारा सील किया हुआ है । परीक्षा प्रारंभ होने के समय आप प्रश्नपत्र के दाएँ भाग को काटकर खोलें तथा जाँच करें कि सभी पृष्ठ अक्षुण्ण हैं ।
3. सभी वस्तुनिष्ठ तथा गैर-वस्तुनिष्ठ प्रकार के प्रश्नों के लिए दिए गए निर्देशों का पालन करें ।
4. प्रश्नों के निर्धारित अंक उसके दाहिनी ओर हाशिये में दिए गए हैं ।
5. प्रश्नों के उत्तर देने के लिए अधिकतम समय इस पृष्ठ के ऊपर में दिया गया है जिसमें प्रश्नपत्र पढ़ने का 15 मिनट भी शामिल है ।

TEAR HERE TO OPEN THE QUESTION PAPER
प्रश्नपत्र को खोलने के लिए यहाँ फाड़ें

- I. निम्नलिखित प्रश्नों / अपूर्ण कथनों प्रत्येक के लिए चार विकल्प दिये गये हैं। उनमें केवल एक सही अथवा सबसे अधिक उपयुक्त है। सही विकल्प चुनकर पूर्ण उत्तर क्रमाक्षर सहित लिखें।

8 × 1 = 8



1. 1453 में कॉन्स्टैन्टिनोपल शहर पर अधिकार कर लिया गया था 
 - (A) अरबों द्वारा 
 - (B) ऑटोमन तर्कों द्वारा
 - (C) इतालियों द्वारा
 - (D) पुर्तगालियों द्वारा।
2. भारत छोड़ो आन्दोलन का नेतृत्व गैर-काँग्रेसी नेताओं को दिया गया था। निम्न में गैर-काँग्रेसी नेता को पहचानें :
 - (A) कस्तुरबा गाँधी 
 - (B) डॉ० बी० आर० अम्बेदकर
 - (C) जयप्रकाश नारायण
 - (D) मौलाना अबुल कलाम आजाद।
3. चीन के प्रधान (Premier) चाउ-एन-लाई के साथ पंचशील सिद्धांत पर हस्ताक्षर करने वाले भारत के प्रधानमंत्री थे
 - (A) जवाहरलाल नेहरू
 - (B) लाल बहादूर शास्त्री
 - (C) इन्दिरा गाँधी 
 - (D) अटल बिहारी वाजपेयी।
4. बालिकाओं के सशक्तिकरण के लिए 'बालिका संघों' का प्रवर्तन तथा रख-रखाव किया जाता है
 - (A) बाल अधिकार सुरक्षा इकाई द्वारा
 - (B) बाल ग्राम सभा द्वारा 
 - (C) बाल सुरक्षा कमिटी द्वारा
 - (D) आँगनवाड़ी द्वारा।
5. कारगिल के निकट 'द्रास' का तापमान सबसे कम रिकार्ड होने का कारण है
 - (A) इस क्षेत्र में सूर्य की उर्ध्वाधर किरणें पड़ना 
 - (B) इसका समुद्र के निकट होना
 - (C) यह बहुत ऊँचाई पर है 
 - (D) यह दक्षिण-पश्चिम मॉनसून से प्रभावित है।

6. हमारे संविधान का अनुच्छेद 21 कहता है
- (A) अनुसूचित जातियों तथा जनजातियों के शैक्षिक हित में मदद करना सरकार का दायित्व है
- (B) यह अल्पसंख्यक वर्ग की शैक्षिक संस्थाओं की स्थापना का प्रबंध करता है ।
- (C) यह प्रबंध करता है कि सामाजिक न्याय तथा लोक कल्याण राज्य सरकार का दायित्व है
- (D) यह प्रत्येक बालक को शिक्षा का मौलिक अधिकार का प्रबंध करता है ।
7. सरकार द्वारा गैर-कर राजस्व निम्न में से किससे वसूला जाता है ?
- (A) वस्तु एवं सेवा कर (GST) द्वारा
- (B) विभिन्न तरह का जुर्माना लगाकर
- (C) आयात-निर्यात कर द्वारा
- (D) स्टाम्प-शुल्क लगाकर ।
8. उद्यमी जो “श्वेत क्रांति के जनक” के नाम से लोकप्रिय हैं, हैं
- (A) डॉ० प्रताप रेड्डी
- (B) नरेश गोयल
- (C) वर्गिस कुरियन
- (D) किरण मजुमदार शाह ।

II. निम्नलिखित प्रश्नों के प्रत्येक उत्तर एक वाक्य में दें :

8 × 1 = 8

9. बंगाल में ‘द्वैध शासन’ कौन कार्यान्वित किया ?
10. सती प्रथा के विरुद्ध लड़ाई में गवर्नर-जेनरल विलियम बेंटिंक ने राजा राममोहन राय को कैसे समर्थन दिया ?
11. मानवाधिकार दिवस कब मनाया जाता है ?
12. बालिका भ्रूण हत्या क्या है ?
13. उष्णकटिबंधीय पतझड़ वन को ‘मॉनसूनी वन’ भी कहे जाते हैं । क्यों ?
14. जनसंख्या घनत्व क्या है ?
15. वस्तु-विनिमय पद्धति क्या है ?
16. विश्व उपभोक्ता आन्दोलन के इतिहास में 15 मार्च, 1962 का दिन महत्वपूर्ण क्यों है ?

III. निम्नलिखित प्रश्नों के उत्तर प्रत्येक चार वाक्यों में दें :

18 × 2 = 36

17. सहायक संधि द्वारा अंग्रेजों ने भारतीय प्रांतों को कैसे अपने नियंत्रण में कर लिया ?

18. 1961 में गोवा कैसे पुर्तगालियों से मुक्त हुआ ?

19. भारतीय विदेश नीति के उद्देश्य क्या हैं ?

अथवा

संयुक्त राष्ट्र सुरक्षा परिषद के कार्यों का वर्णन करें ।

20. सामाजिक स्तरीकरण (Stratification) कैसे विभिन्न रूपों में अस्तित्व में है ?

अथवा

1970 के दशक में डी० देवराज अर्स ने कर्नाटक में किस तरह से सामाजिक सुधार लाया ?

21. पूर्वी घाट एवं पश्चिमी घाट में अंतर करें ।

22. मृदा अपरदन के कारण क्या हैं ?

23. “स्वयं सहायता समूह महिलाओं की प्रतिष्ठा तथा स्वायत्तता बढ़ाया है ।” कैसे ?

24. “भूमंडलीकरण उपभक्ताओं के लिए लाभकारी हुआ ।” विवेचना करें ।

25. बक्सर युद्ध के परिणामों का उल्लेख करें ।

26. ‘राज्य अपहरण नीति’ के प्रयोग द्वारा जिन राज्यों को मिलाया गया उनके नाम बताएँ ।

27. भारतीय संघ में जुनागढ़ का विलय कैसे हुआ ?

28. “भारत मानवाधिकारों की सुरक्षा के लिए सकारात्मक भूमिका निभाता है ।” सत्यापन करें ।

29. U.N.O. के उद्देश्य क्या हैं ?



30. बाल चोरबाज़ारी (trafficking) के दुष्प्रभाव क्या हैं ?



31. भारत कैसे पड़ोसी देशों से सीमांकित है ?



32. ऊर्जा संकट को हल करने के लिए आप क्या उपाय सुझाएँगे ?

33. सार्वजनिक व्यय के क्या लक्ष्य हैं ?



34. उपभोक्ता अधिनियम के मुख्य उद्देश्य क्या हैं ?

IV. निम्नलिखित प्रश्नों के प्रत्येक उत्तर छह वाक्यों में दीजिए :

9 × 3 = 27

35. “भारतीयों की नई पीढ़ी में नई सोच तथा प्रत्यक्षण (Perception) का उदय ब्रिटिश शिक्षा से

उभार आया ।” कैसे ?



36. हलागली के बैदाओं की बगावत का वर्णन करें ।



अथवा

आर्य समाज के उद्देश्यों का वर्णन करें ।

37. “द्वितीय विश्व युद्ध बहुत ही विनाशकारी था ।” कैसे ?



38. भारत की आंतरिक समस्या के रूप में सम्प्रदायवाद का उन्मूलन के लिए आपके सुझाव क्या

हैं ?



39. संगठित क्षेत्र तथा असंगठित क्षेत्र के श्रमिकों में अंतर करें ।



40. परिवहन एवं संचार का क्या महत्व है ?



अथवा

उद्योगों के स्थानीकरण को प्रभावित करने वाले कारकों का उल्लेख करें ।

41. भूकम्प की पूर्व सतकर्ता के उपायों की सूची बनाएँ ।



42. भारत में पंचायती राज व्यवस्था के प्रधान लक्षण (Key features) क्या हैं ?

अथवा

भारतीय रिजर्व बैंक के कार्य क्या हैं ?

43. डाकघरों द्वारा प्रदान की जानेवाली वित्तीय सेवाओं का उल्लेख करें ।



अथवा

किसी उद्यमी के प्रमुख कार्यों की सूची बनायें ।

V. निम्नलिखित प्रश्नों का उत्तर लगभग आठ वाक्यों में दीजिए :



4 × 4 = 16

44. 1857 के भारतीय स्वतंत्रता के प्रथम युद्ध की असफलता के कारणों का वर्णन करें ।

45. डॉ० बी० आर० अंबेडकर की सामाजिक समानता की सोच का सोदाहरण वर्णन करें ।

अथवा

उग्र उन्मूलनवादियों (radicals) ने भारतीय स्वतंत्रता संघर्ष को कैसे फिर से तीव्र किया ?

46. सिन्धु नदी सभ्यता से आज तक के भारत तथा चीन के संबंध का वर्णन करें ।



47. हमारे देश की आर्थिक प्रगति में कृषि का महत्व क्या है ?



VI. 48. भारत का रेखा मानचित्र खींचकर निम्न को चिह्नित करें :



1 + 4 = 5

a) $23 \frac{1}{2}^{\circ}$ उत्तरो अक्षांश

b) गोविंद सागर



c) मुम्बई हाई

d) तुतीकोरिन ।



केवल दृष्टिबाधित परीक्षार्थियों के लिए विकल्प प्रश्न : (प्रश्न सं० 48 के बदले में)

बहुउद्देशीय नदी घाटी परियोजनाओं के मुख्य उद्देश्यों का उल्लेख करें ।



5

